

1.“Bilgisayar ..... ve ..... olmak üzere iki unsurdan oluşur.” cümlesindeki boş yerlere aşağıdaki kelime gruplarından hangisi gelmelidir.

- A) Windows-Word B) MSN-ICQ C) BIOS-CPU D) Yazılım- Donanım

2. Bilgisayar açıldığında aşağıdakilerden hangisi ilk aktif olur?

- A. RAM B. ROM BIOS  
C. Harddisk D. Disket Sürücü

3. Yeni bir harddisk aldığımızda bunu bilgisayarımıza nasıl tanıtırız?

- A. Windows kendi tanır B. BIOS'tan ayar yaparız  
C. Windows'ta driverını yükleriz D. Formatladığımızda kendisi tanır

4. CD sürücüyü Birincil IDE kablosuna sabit diskle beraber takarsanız mutlaka yapmanız gereken şey nedir?

- A. Windows'ta sistem ayarlarından tanıtmak B. CD sürücünün slave jumperını ayarlamak  
C. CD sürücünün ses kablosunu ses kartına bağlamak D. CD sürücü Birincil IDE'ye takılmaz

5. Bilgisayar bir müddet sonra kendi kendine kilitleniyorsa muhtemel sebep ne olabilir?

- A. Güç kaynağı bozuk olabilir B. CPU fanı bozuk olabilir  
C. Harddiskin 0. izi bozuk olabilir, D. Fare ile ilgili problem vardır

6. Bilgisayarın ekranına görüntü gelmiyorsa aşağıdakilerden hangisi bunun sebebi değildir?

- A. Bozuk Hard disk B. Bozuk işlemci  
C. Bozuk ekran kartı D. Bozuk anakart

7. Aşağıdakilerden hangisi aynı anda çok programla çalışmayı oldukça olumlu etkiler?

- A. Daha büyük bir monitör B. Harddisk kapasitesini arttırma  
C. Sanal Bellek ayarını arttırma D. RAM ilave etme

8. Aşağıdakilerden hangisi giriş ünitesidir?

- A)Ekran B)Yazıcı C)Klavye D)Monitör

9. Aşağıdakilerden hangisi HDD(Hard disk)'nin simgesidir?

- A) c: B) a: C) b: D) hiçbirisi

10. Aşağıdakilerden hangisi çıkış ünitesidir?

- A)Klavye B)Mause C)Harddisk D)Yazıcı

11. Veri ve bilgilerin kalıcı olarak saklandığı bölüm hangisidir?

- A)Harddisk B)Ram C)Anakart D)Monitör

12. Yapılan tüm işlemler geçici olarak hangi üniteye saklanır?

- A)Prom B)Eprom C)Ram D)Rom

13. Aşağıdakilerden hangisi yada hangileri bilgisayar için doğrudur?

I-Çok Büyük Hacimlerdeki Veri Ve Bilgiyi Çok Küçük Hacimlerde Saklar.

II-Matematiksel işlemleri Hızlı Bir şekilde Yorumlar.

III-Elektronik, Mekanik, Manyetik Bileşenlerden Oluşur.

- A)Yalnız I B)I,II C)I,II,III D)Yalnız III

14. Bilgisayarın açılmasını sağlayan düğme hangisidir?

- A)Power B)Turbo C)Reset D)Let

15. Bilgisayarda işlenen verileri monitöre aktaran birim hangisidir?

- A) Ekran Kartı B) Anakart C) Ram D) Tv Kartı

16. Bilgisayarda sesleri düzenleyen birim hangisidir?

- A) Cd-Rom B)Ses Kartı C) Yazıcı D)Scanner

**AŞAĞIDAKİ BOŞ YERLERE GELECEK UYGUN SÖZCÜĞÜ İŞARETLEYİNİZ.**

17. Ekranda nerede olduğumuzu gösteren işaret.....

- A) Numlock tır. B) Tab dır. C) İmleç tir D) Esc dir.

18. Büyük harfteyken küçük harfe, küçük harfteyken büyük harfe geçmek için..... Tuşu kullanılır

- A)Esc B)Shift C)Caps Lock D)Enter

19. Cursörü satır sonuna almak için ..... Tuşu kullanılır?

- A) Home B) End C) Caps Lock D) Enter

20. Klavyedeki tuşlarda bulunan diğer karakterleri ekrana getirmek için ..... Tuşu ile birlikte o tuşa basmak gerekir.

- A) Esc B) Shift C) Caps Lock D) Enter

21. Cursörün solundaki karakterleri silmek için kullanılır.


- A) Del B)Shift C) Backspace D)Enter

22. Windows açıldığında karşımıza gelen ilk yer neresidir?


- A) Başlat B) Arkafon C) Masaüstü D) Deskopit

23. Windows programı hangi program grubuna girer?

- A)Kelime İşlemci B)Grafik Programı C) İşletim Sistemi D) Programlama Dili

24.  yandaki simge neyin simgesidir?

- A) Bilgisayarım B) Belgelerim C) Geri Dönüşüm Kutusu D) Başlat

25.  yandaki simge neyin simgesidir?

- A) Bilgisayarım B) Belgelerim C) Geri Dönüşüm Kutusu D) Başlat



26. **yandaki simge neyin simgesidir?**

- A) Bilgisayarım B) Belgelerim C) Geri Dönüşüm Kutusu D) Başlat

27. **işletim sistemi ne işe yarar?**

- A) **Bilgisayarın Açılmasını Sağlar** B) Doküman Yazmak İçin Kullanılır.  
C) Tablo Hazırlamak İçin Kullanılır D) Grafik Hazırlamak İçin Kullanılır

28. **Aşağıdakilerden hangileri işletim sistemidir?**

- A) Word-Powerpoint B) Excel-Outlook C) **Windows-Dos** D) Eta-LKS

29. **Bilgisayarın mevcut tarih ve saat bilgilerini görmenize ve değiştirmenize olanak sağlayan denetim masasındaki öğe hangisidir?**

- A) Sistem B) **Tarih-Saat** C) Telefon D) Yazı tipleri

30. **Fare imleci bir simge üzerinde iken farenin sol düğmesine basılarak farenin hareket ettirilmesi işlemine ne denir?**

- A) Tıklama B) Çift Tıklama C) İzleme D) **Sürükleme**

31. **Ekrandaki açık dosya görüntüsünü küçültmek için aşağıdaki hangi kısa yol tuşunu kullanmalıyız?**

- A) B) C) D)

32. **Aktif halde bulunan klasör penceresindeki tüm dosyaları seçmek için hangi komut uygulanır?**

- A) **Tümünü Seç** B) Diğerlerini Seç C) Geri al D) Yinele

33. **Hesap makinasını çalıştırmak için aşağıdaki yollardan hangisi izlenir?**

- A) Başlat-Ayarlar-Hesap makinesi B) **Başlat-Programlar-Donatılar-Hesap Makinası**  
C) Bilgisayarım-Denetim Masası-Hesap makinesi D) Başlat-Programlar-Hesap Makinası

34. **Uygulanan son işlemin iptali hangi komutla yapılır?**

- A) Tümünü Seç B) **Geri al** C) Kes D) Yinele

35. **Aranan belgeyi bulmak için izlenen yol hangisidir?**

- A) Başlat-Programlar-Bul B) **Başlat-Ara-Dosyalar Ve Klasörler**  
C) Başlat-Donatılar-Bul D) Başlat-Belgelerim-Bul

36. **Kes veya kopyala düğmesine bastıktan sonra görünen ve tıkladığında kesilen veya kopyalanan dizin ve dosyaları istenilen yere yapıştıran komut hangisidir?**

- A) Geri al B) Kes C) **Yapıştır** D) Kopyala

37. **Diğer bilgisayarlardaki belgelere ulaşmayı ve diğer bilgisayarlara bağlanmamızı sağlayan simge hangisidir?**

- A) Bilgisayarım B) **Ağ bağlantıları** C) Internet Explorer D) Belgelerim

38. **Pencerenin en üstünde bulunan mavi çubuğa ne ad verilir?**

- A) Durum çubuğu B) Araç çubuğu C) **Başlık çubuğu** D) Araç kutusu

39. **“Araç çubuğu” nedir?**

- A) Menülerin bulunduğu bölümdür B) Kaydırma çubuklarının bulunduğu bölümdür  
C) Cetvelin bulunduğu bölümdür D) **Komutların kısayol düğmelerinin bulunduğu bölümdür.**

40. **Bir uygulamayı çalıştırmak için hangi fare hareketi yapılır?**

- A) Tıklama B) Sürükleme C) Taşıma D) **Çift Tıklama**

41. **Geri Dönüşüm Kutusunda Bulunan Bütün Dosyaları Silmek için Hangisi Kullanılır?**

- A) **Geri Dönüşüm Kutusunu Boşalt** B) Kopyala C) Araştır D) Sil

42. **Windows işletim sisteminde resim düzenleme programı aşağıdakilerden hangisidir?**

- A) Word B) Excel C) **Paint** D) Eta

43. **Hangisi görev çubuğunda bulunmaz?**

- A) Başlat Menüsü Butonu B) Açık Olan Programların İsmi  
C) **Denetim Masası Simgeleri** D) Tarih/Saat Simgeleri

44. **Pencere içinde bulunan dosyaya masa üstünde kısayol oluşturmak için aşağıdaki yöntemlerden hangisi kullanılır?**

- A) **Sağ Buton-Gönder-Masaüstü Kısayol** B) Düzen Menüsü-Kısayol Oluştur  
C) Dosya Menüsü-Masaüstü Kısayolu D) Sağ Buton-Yeni -Kısayol

45. **Dizin ve dosyanın adını değiştirmek için hangisi kullanılır?**

- A) Düzen Menüsünden-Yeniden Adlandır B) Sağ Buton-Dosya Adlandır  
C) **Sağ Buton-Yeniden Adlandır** D) Dosya Menüsü-Dosya Adlandır

46. **Windows pencereleri içinde bulunan bir dosyayı silmek için hangi yöntem kullanılmaz?**

- A) Dosya Seç-Sağ Buton-Sil B) Dosya Seç-Düzen-Sil  
C) Dosya Seç-Dosya -Sil D) **Dosya Seç-Delete-Enter**

47. **Masa üstünde bilgisayarın renk ayarının yapılabilmesi için aşağıdakilerden hangisi uygulanmalıdır?**

- A) Başlat-Ayarlar-Görünüm B) Bilgisayarım-Denetim Masası-Ayarlar  
C) Başlat-Donatılar-Ayarlar D) **Sağ Buton-Özellikler-Ayarlar**

48. **Bilgisayarı kapatmanın en doğru yolu aşağıdakilerden hangisi?**

- A) Başlat-Programlar-Bilgisayarı Kapat B) Başlat-Programlar-Oturumu Kapat  
C) Başlat-Oturumu Kapat-Bilgisayarı Kapat D) **Başlat-Bilgisayarı Kapat-Kapat**

49. **Bilgisayara bulaşan virüsleri temizlemek için kullanılan programlara verilen genel ad aşağıdakilerden hangisidir?**

- A) Setup B) Sistem C) **Anti-Virüs** D) Winzip

50. **Windows da yeni bir yazıcı ekleme işlemi nereden yapılır?**

- A) **Başlat - Ayarlar - Yazıcılar ve Faks - Yazıcı ekle** B) Denetim masası - Yazıcı ekle  
C) Başlat - Programlar - Yazıcılar - Yazıcı ekle D) Başlat - Programlar - Donatılar - Yazıcı ekle

51. Bilgisayarın RAM'i , işlemcisi ve kurulu cihazların neler olduğu nereden görülebilir?

- A) Denetim Masası – Görüntü B) Denetim Masası – Program Ekle/Kaldır  
C) Denetim Masası – Sistem D) Denetim Masası – Yeni Donanım Ekle

53. Dosyaları gizlemek / göstermek için aşağıdaki seçeneklerden hangisini çalıştırmalıyız?

- A) Denetim Masası – Bölge ve Dil Seçenekleri – Diller – Tüm Dosyaları Göster  
B) Denetim Masası – Klasör Seçenekleri – Görünüm  
C) Denetim Masası – Klavye / Hız- Görünüm  
D) Denetim Masası – Sistem - Genel

54. Klavyedeki ( \$ , # , \ vb...) 3. karakterler hangi yardımcı tuşla eklenebilir?

- A) Alt Gr B) Tab (Sekme) C) Ctrl D) Shift (Üstkarakter)

55. Klavyedeki ( / , ? , + , ,, : vb...) 2.karakterler hangi yardımcı tuşla eklenebilir?

- A) Alt Gr B) Tab (Sekme) C) Ctrl D) Shift(Üstkarakter)

56. Word programı ne amaçla kullanılır?

- A) Doküman Oluşturma B) Program Yazma C) Slayt Hazırlama D) Veri Tbalosu Hazırlama

57. Word belgelerinin uzantısı hangisidir?

- A)Txt B)Xls C)Doc D) Ppt

58. Yeni bir belge oluşturmak için aşağıdaki komut dizilerinden hangisi kullanılır?

- A) Dosya-Aç B) Dosya-Yeni C) Ekle-Simge D) Ekle-Dipnot

59. Kayıtlı bir belgeyi, farklı bir yere veya farklı bir adla yeniden kaydetmek için aşağıdaki komut dizilerinden hangisi kullanılmalıdır?

- A) Dosya Menüsü-Kaydet B) Dosya Menüsü-Farklı Kaydet C) CTRL+S D) Hiçbiri

60. Çalışılan bir belgeyi kapatmak için ne yapılır?

- A) Dosya-Kapat B) Dosya-Aç C) Dosya-Yeni D) Dosya-Geri Al

61. Belgenin kenar boşluklarını ayarlamak için aşağıdaki komut dizilerinden hangisi kullanılır?

- A) Biçim- Kenarlıklar B) Dosya- Sayfa Yapısı C) Düzen- Kes D) Düzen- Özel Yapıştır

62. “Uzman Bilgisayar Kursu” Yazısını “UZMAN BİLGİSAYAR KURSU” olarak değiştirmek için hangisi kullanılır?

- A)Madde İşaretleri Ve Numaralandırma B) Kenarlıklar Ve Gölgeleme  
C) Üstbilgi- Altbilgi D) Büyük Küçük Harf Değiştir

63. Belgeye resim eklemek için hangi komut kullanılır?

- A) Ekle-Resim-Küçük Resim B)Ekle-Simge C)Ekle-Dosya D)Ekle-Alan

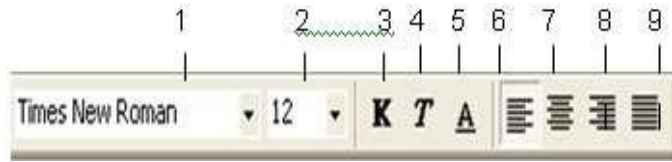
64. Klavye ile işaretleme yapabilmek için hangi tuşlar kullanılır?

- A)Tab+Yön tuşu B)Ctrl+Yön Tuşları C) Alt+Yön Tuşları D) Shift+Yön Tuşları

65. Metin içinde geçen “aydın” kelimesini “uzman” olarak değiştiren komut hangisidir?

- A) Bul B) Git C) Temizle D) Değiştir

AŞAĞIDAKİ SORULARI ŞEKLE GÖRE CEVAPLAYINIZ.



66. İşaretlenen bir metni ortalı yazmak için kaç numaralı seçeneğe basmalıyız?

- A)6 B)7 C)8 D)5

67. İşaretlenen bir metni 15 puntoda(boyut) yazmak için kaç numaralı seçeneğe basmalıyız?

- A)1 B)2 C)3 D)4

68. İşaretlenen bir metni kalın yazmak için kaç numaralı seçeneğe basmalıyız?

- A)1 B)2 C)3 D)4

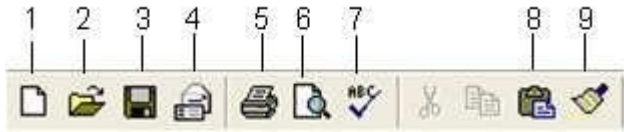
69. İşaretlenen bir metni altı çizgili yazmak için kaç numaralı seçeneğe basmak gerekir?

- A)6 B)7 C)8 D)5

70. İşaretlenen bir metni sağa hizalı yazmak için kaç numaralı seçeneğe basmalıyız?

- A)6 B)7 C)8 D)5

AŞAĞIDAKİ SORULARI ŞEKLE GÖRE CEVAPLAYINIZ.



71. 1 numaralı simge hangi komutun kısa yoludur?

- A)Yeni B)Aç C)Kaydet D)Yazdır

72. 2 numaralı simge hangi komutun kısa yoludur?

- A)Yeni B)Aç C)Kaydet D)Yazdır

73. 3 numaralı simge hangi komutun kısa yoludur?

- A) Yeni B) Aç C) Kaydet D) Yazdır

74. 5 numaralı simge hangi komutun kısayoludur?  
A) Yeni B) Aç C) Kaydet D) Yazdır
75. 6 numaralı simge hangi komutun kısa yoludur?  
A) Baskı Önizleme B) Aç C) Kaydet D) Yazdır
76. 8 numaralı simge hangi komutun kısa yoludur?  
A) Kes B) Kopyala C) Yapıştır D) Git
77. 1,2,3 ve 16'dan 22'ye kadar olan sayfaları yazdırmak için aşağıdaki ibarelerden hangisi kullanılmalıdır?  
A)1,2,3,16,22 B)1-2-3-16-22 C)1,2,3,16-22 D)1-2-3-16,22
78. Simgelerini yazabilmek için hangi menüden hangi seçenek kullanılır?  
A) Ekle-Alan B) Ekle-Simge C) Ekle-Dipnot D) Ekle-Açıklama
79. I-Metni Seçiniz.  
II-Yazı tipi Kutusundan istediğiniz yazı tipini Seçiniz. III-Yazı tipi boyutu kutusundan istediğiniz büyüklüğü seçiniz.  
Bir yazının boyutunu değiştirmek için yukarıdaki işlemler hangi sıra ile yapılmalıdır?  
A) 1-3 B) 2-3 C) 1-2 D) 1-2-3

80. Yan taraftaki buton hangi işlem için kullanılır?  
A) Tablo Çizmek B) Tablodaki Çizgileri Silmek C) Satır Eklemek D) Sütun Eklemek

81. Yan taraftaki buton hangi işlem için kullanılır?  
A) Tablo Çizmek B) Tablodaki Çizgileri Silmek C) Satır Eklemek D) Sütun Eklemek





82. Aşağıdaki butonlardan hangisi metni sütunlara ayırmak için kullanılır?

- A)  B)  C)  D) 

83. Aşağıdaki butonlardan hangisi madde işaretleri butonudur?

- A)  B)  C)  D) 

84. Aşağıdaki butonlardan hangisi numaralandırma butonudur?

- A)  B)  C)  D) 

85. Word'de bir kelimenin yanlış yazıldığını nasıl anlayabiliriz?

- A) Kelime Küçülür B) Kelimenin Üstü Çizilir  
C) Kelimenin sayfada görünmez D) Kelimenin Altı Kırmızı Dalgalı Çizgi İle Çizilir

86. Bir tabloda yan yana iki hücreyi tek hücre haline getiren seçenek aşağıdakilerden hangisidir?

- A) Hücreleri Böl B) Satır Seç C) Sütun Seç D) Hücreleri Birleştir

87. Yandaki simge neyi ifade eder?

- A) Kalın B) İtalik C) Yazıtipi Rengi D) Boyut

88. Bir belgenin yazıcıdan çıkmadan önceki son halini görmek için kullandığımız işlev aşağıdakilerden hangisidir?

- A) Baskı Önizleme B) Sayfa Yapısı C) Sayfa Düzeni Görünümü D) Hiçbiri

89. Belgeye sayfa numarası eklemek için aşağıdakilerden hangisi kullanılır?

- A) Düzen- Sayfa Numarası B) Dosya- Sayfa Numarası C) Biçim- Sayfa Numarası D) Ekle-Sayfa Numarası

90. Belgeye üst bilgi ve alt bilgi ekleyen komut dizisi aşağıdakilerden hangisidir?

- A) Görünüm-Alt Bilgi Üst Bilgi B) Dosya-Alt Bilgi Üst Bilgi C) Ekle-Alt Bilgi Üst Bilgi D) Biçim-Alt Üst Bilgi

91. Excel ne amaçla kullanılır?

- A) Tablo Çizme B) Hesap Yapma C) Grafik Hazırlama D) Hepsi

	A	B	C	D	E	F	G	H
1	5							
2			25		45			
3	10							
4		2						=c2+a5
5	20			35		40		
6							=a1*b4	
7	X	50			65			

SORULARI TABLOYA GÖRE CEVAPLAYINIZ.

92. Yukarıdaki tabloya göre X işareti bulunan hücrenin adı nedir?

- A)A6 B)A7 C)A8 D)A9

93. Yukarıdaki tabloya göre 2 ile 40'ı çarpan formül aşağıdakilerden hangisidir?

- A)=B4\*C4 B)=F4\*H4 C)=B4\*F5 D)=E2\*B7

94. Tabloya göre 65 ile 45 i toplayan formül hangisidir?

- A)=E2+E7 B)=F2+F7 C)=D2+D7 D)=C2+C7

95. Yukarıdaki tabloya göre 50 den 5 i çıkaran formül hangisidir?  
A)=B7-A7 B)=B7-A1 C)=A1-B7 D)=A7-B7
96. Grafik oluşturmak için kullanılan menü hangisidir?  
A) Düzen B) Görünüm C) Ekle D) Biçim
97. A Sütunu ile 2. Satırın kesiştiği adres hangisidir?  
A)A B)2 C)A2 D)2A
98. AÇağıdaki formüllerden hangisi formül kurallarına göre yanlıştır?  
A)=A1+B1 B)=5+3 C)=(A1+B1)/2 D)A1+B1
99. Bir hücre içerisine aÇağıdaki verilerden hangisi girilemez?  
A) Metin B) Sayı C) Formül D) Grafik
100. İşlev sihirbazı (fx) ne iÇe yarar?  
A) Veri girme B) Formül Kullanma C) Çalışma Sayfası Ekleme D) Grafik Çizme
101. Şarta bağlı işlem yapan fonksiyon hangisidir?  
A)Eğer B)Tanjant C)Kotanjant D)Cosinüs
102. Sıralamayı büyükten küçüğe doğru yapabilmek için hangisi seçilmelidir?  
A) Sırala B) Büyük C) Artan D) Azalan
103. Formüller hangi iÇaretle baÇlar?  
A)=( Eşittir) B). (Nokta) C)\* (Yıldız) D)? (Soru İşareti)
104. A5 Hücresindeki sayıdan b4 hücresinde bulunan sayıyı çıkartıp sonucu ikiye bölen formül hangisidir?  
A)=(A5-B4)/2 B)=A5-B4/2 C)=2/A5-B4 D)=A5/2-B4
105. Hangisi a1'den a60'a kadar olan hücrelerdeki sayıları toplar?  
A)=Topla(A1:A60) B)=Topla(A1+A60) C)=Toplam(A1+A60) D)=Toplam(A1:A60)
106. Seçilen alandaki bilgileri sıralamayı Sağlayan komut aşağıdakilerden hangisidir?  
A)Veri/Sırala B)Biçim/Sırala C)Düzen/Sırala D)Ekle/Sırala
107. Belli bir düzende yazılmış bir tablonun her bir kaydının tek tek görülebilmesini ve üzerinde işlemler yapılabilmesini sağlayan komut aşağıdakilerden hangisidir?  
A)Veri/Sırala B)Veri/Form C)Veri/Süz D)Veri/Tablo
108. Sayfada sıralı olmayan hücrelerdeki verileri seçmek için hangisi kullanılabilir?  
A) Shift B) Tab C) Ctrl D) Esc
109. Farklı hücrelerdeki veriler üzerinde işlem yapmak için kullanılan işaret hangisidir?  
A) - B); C) \* D) /
110. Formüllerden hangisi doğrudur?  
A) =Eğer(B2<45;"kaldı";geçti) B) Eđer(B2<45;"kaldı";"geçti")  
C) =Eđer(B2<45;"kaldı";"geçti") D) =Eđer("geçti";"kaldı")
111. Powerpoint programında hazırlanan dokümana ne denir?  
A) Sunu B) Doküman C) Tablo D) Program
112. Hazırlanmış olan sunu dosyasındaki slayt görünümünü bilgisayar ekranında görüntülemek için kullanılan seçenek hangisidir?  
A) Göster B) Görüntüle C) Gösteriyi görüntüle D) Gösteri hazırla
113. Powerpoint programında kaydedilen sunum dosyasının uzantısı nedir?  
A) XLC B)DOC C)PPT D)TXT
114. Powerpoint'te slaytlar arası geçiş hangi komutla ayarlanır?  
A) Canlandırma B) Not sayfası C) Slayt Sıralayıcı D) Slayt Geçışı
115. Powerpoint'te nesnelere efekt(animasyon) hangi komutla ayarlanır?  
A) Ekle / Animasyon B) Nesne üzerinde sağ tıkla/Özel Animasyon /Efekt Ekle  
C) Sağ Tıkla / Arka Plan D) Biçim / Slayt Düzeni
116. İnternet ağ yapısı aşağıdakilerden hangisi ile başar?  
A)www B)iwsw C)html D)dns
117. internete girmek için aşağıdakilerden hangisine ihtiyaç vardır?  
A) Telefon hattı B) Modem C) Bilgisayar D) Hepsisi
118. Aşağıdaki internet uzantılarından hangisi eğitim kurumunu ifade eder?  
A) edu B) net C) gov D) com
119. Download Nedir?  
A) Servis sağlayıcıya bağlanmak B) FTP programını kullanmak  
C) İnternette dosya almak D) Sık kullanılanlara ekleme yapmak
120. Aşağıdakilerden hangisi web sayfasına örnek teşkil eder?  
A) [www.meb.gov.tr](http://www.meb.gov.tr) B) <ftp://meb.gov.tr>  
C) [info@meb.gov.tr](mailto:info@meb.gov.tr) D) [www.meb@gov.tr](mailto:www.meb@gov.tr)